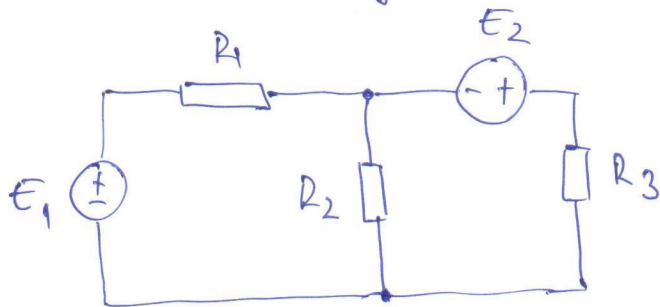


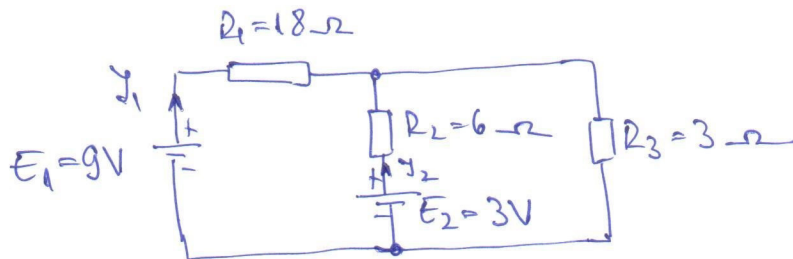
# Temă 1 Electronica I

Temen de predare: 13.10.2020.

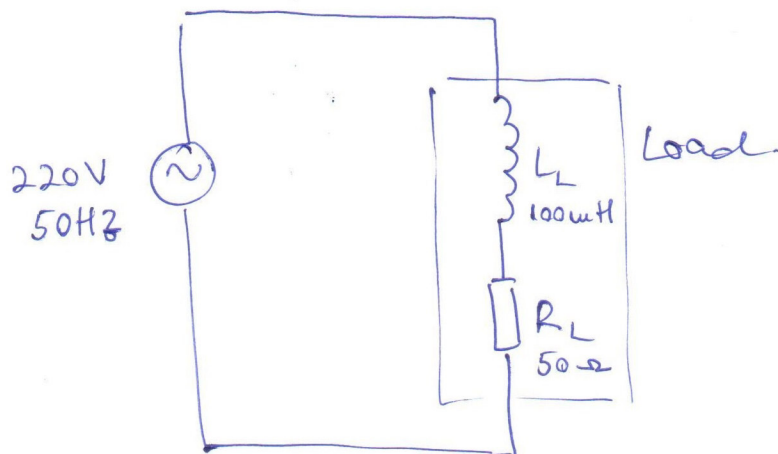
1. Determinați valorile tensiunilor  $U_{R_2}$  și  $U_{R_3}$  din schema de mai jos. Se dau  $E_1 = 20\text{ V}$ ,  $U_{R_1} = 5\text{ V}$ ,  $E_2 = 10\text{ V}$ .



2. Determinați valorile curenților  $I_1$  și  $I_2$  din schema de mai jos.



3.



$$I = ?$$

$$P = ?$$

$$Q = ?$$

$$S = ?$$